



CADERNO DE QUESTÕES

NUTRICIONISTA

Domingo, 29 / 07 / 2018

NÍVEL SUPERIOR

NOME DO CANDIDATO: _____

NÚMERO DE INSCRIÇÃO:

LEIA COM ATENÇÃO AS INSTRUÇÕES ABAIXO

1. Este **CADERNO DE QUESTÕES** contém **40 (quarenta) QUESTÕES** de múltipla escolha referente a Prova Objetiva, correspondentes ao cargo de sua concorrência.
2. Cada questão objetiva de múltipla escolha apresenta **4 (quatro)** alternativas identificadas com as letras **A, B, C, e D** sendo apenas **1 (uma)** correta.
3. Confira se o seu **CADERNO DE QUESTÕES** contém a quantidade de questões descritas no item 1 e se o **cargo** para o qual você foi inscrito está correto. Caso esteja incompleto ou apresente qualquer defeito, comunique imediatamente ao fiscal de sala, para que seja realizada a substituição.
4. Observe, na **FOLHA DE RESPOSTAS**, se seus dados estão registrados corretamente. Caso haja alguma divergência, comunique ao fiscal de sala.
5. Após conferência, assine seu nome no espaço próprio na **FOLHA DE RESPOSTAS** e no **CADERNO DE QUESTÕES**.
6. **OBRIGATORIAMENTE** a **FOLHA DE RESPOSTAS** deverá ser preenchida com caneta esferográfica feita em material transparente de tinta preta ou azul.
7. **Não é permitida**, no momento da prova, a comunicação entre os candidatos, bem como a utilização de aparelhos eletrônicos (calculadora, telefone celular, tablet, etc.), óculos escuros, protetor auricular, boné, relógios, livros, anotações, impressos ou qualquer outro material de consulta.
8. A saída de candidato da sala de prova somente será permitida depois de transcorrido o tempo de **01 (uma) hora do início da prova** (apontado em sua sala de prova), mediante a entrega, obrigatória, da sua folha de respostas e do seu caderno de questões ao fiscal de sala.
9. O candidato poderá, ao terminar sua prova, levar o Caderno de Questões **SOMENTE** faltando **01 (uma) hora** para o tempo previsto do seu término.
10. O tempo disponível para a prova é de **03 (três) horas**.
11. Será eliminado do concurso e terá sua prova anulada, o candidato (a) que: **NÃO ASSINAR A LISTA DE PRESENÇA** e/ou a **FOLHA DE RESPOSTAS**.
12. Os três últimos candidatos, ao terminar a prova, só poderão sair juntos.

BOA PROVA!

DESTAQUE AQUI

01		05		09		13		17		21		25		29		33		37	
02		06		10		14		18		22		26		30		34		38	
03		07		11		15		19		23		27		31		35		39	
04		08		12		16		20		24		28		32		36		40	

LÍNGUA PORTUGUESA

TEXTO PARA AS QUESTÕES 01 A 10

Por que você precisa estimular seu filho a ler

Estudo revela que a leitura de livros na primeira infância ajuda a desenvolver a empatia e tem até benefícios físicos

A leitura é constantemente associada à inúmeros benefícios relacionados ao desenvolvimento cognitivo e intelectual. Manter um hábito de leitura pode ser bastante importante, principalmente para as crianças.

As histórias são capazes de ativar a imaginação dos pequenos e ajudá-los na formação de suas personalidades. Esses benefícios são desenvolvidos a longo prazo, até a idade adulta.

O estudo *“Reading with children starting in infancy gives lasting literacy boost”*, da Academia Americana de Pediatras, mostra que a leitura de livros na primeira infância pode ajudar a melhorar o desempenho escolar e as habilidades cognitivas durante a alfabetização nos anos posteriores.

“O que os bebês estão aprendendo quando você lê para eles continua fazendo efeito até quatro anos depois, quando estão prestes a começar o ensino fundamental”, explicou Carolyn Cates, pesquisadora do departamento de pediatria da Faculdade de Medicina da Universidade de Nova York.

Nessa fase de idade, os pesquisadores indicam a leitura de livros com imagens e objetos para ajudar as crianças na categorização do mundo e das palavras.

Outra pesquisa, desenvolvida pelo departamento de psicologia da Universidade de Cambridge, explica que a literatura permite às crianças passarem um tempo dentro da mente de outra pessoa e se colocarem no lugar dos personagens.

Os pequenos também são expostos a diferentes tipos de pessoas, lugares, culturas e situações que abrem sua mente para a importância da diversidade e da empatia.

Segundo os pesquisadores, a leitura de ficção fornece “um excelente treinamento para jovens no desenvolvimento e prática da empatia e da teoria da mente, isto é, compreensão de como outras pessoas sentem e pensam”.

Hoje em dia, é cada vez mais comum ver crianças passando o tempo com aplicativos em tablets ou smartphones. O uso irrestrito desses gadgets, no entanto, pode afetar o desenvolvimento cerebral dos pequenos.

Os smartphones emitem uma luz azul prejudicial ao desenvolvimento cognitivo e mantêm as crianças – bem como os adultos – cada vez mais atentas as notificações e a super-estimulação visual.

Uma pesquisa recente mostrou que, ao contrário de uma boa história para dormir, as telas brilhantes e o uso de smartphones podem atrapalhar os padrões de sono das crianças.

Os especialistas recomendam que os pais ofereçam bons livros para seus filhos, já que uma boa narrativa também pode ser um ótimo entretenimento.

Disponível em: <https://www.pragmatismopolitico.com.br/2018/04/precisa-estimular-seu-filho-a-ler.html>. Acesso em: 18/05/2018. (Adaptado).

QUESTÃO 01

Sabe-se que algumas palavras utilizadas no texto não possuem tradução na língua portuguesa, tal qual é o caso da palavra *gadgets*, empregada no nono parágrafo. No entanto, pelo contexto em que se encontra, sua interpretação é possível e tal palavra pode ser entendida como:

- (A) Jogos instalados em tablets ou celulares.
- (B) Aparelhos eletrônicos que constituem uma inovação.
- (C) Brinquedos digitais que se modernizam com o passar do tempo.
- (D) Dispositivos que compõem um acervo didático.

QUESTÃO 02

Percebe-se, em relação aos vocábulos acentuados em “O que os bebês estão aprendendo quando você lê para eles continua fazendo efeito até quatro anos depois, quando estão prestes a começar o ensino fundamental”, que estes:

- (A) Obedecem às regras de acentuação das palavras oxítonas.
- (B) Obedecem às regras de acentuação das palavras paroxítonas.
- (C) Obedecem às regras de acentuação das palavras proparoxítonas.
- (D) Obedecem às regras de acentuação dos ditongos abertos.

QUESTÃO 03

Em “As histórias são capazes de ativar a imaginação dos pequenos e ajudá-los na formação de suas personalidades”, percebe-se a presença de uma figura de linguagem intitulada:

- (A) Eufemismo.
- (B) Comparação.
- (C) Metonímia.
- (D) Catacrese.

QUESTÃO 04

No trecho “Os smartphones emitem uma luz azul prejudicial ao desenvolvimento cognitivo e mantêm as crianças – bem como os adultos – cada vez mais atentas as notificações e a super-estimulação visual”, a respeito do verbo “manter”, é possível dizer que este:

- (A) Foi empregado no plural para concordar com o substantivo “smartphones”.
- (B) Possui erro de ortografia e deveria ser redigido sem acento para concordar com “desenvolvimento”.
- (C) Está em concordância com a preposição e o com substantivo posposto a ele.
- (D) Por ser antecedido por palavra no singular e sucedido por palavra no plural, poderia concordar com ambas.

QUESTÃO 05

Sobre a questão da leitura, o texto **não** permite afirmar que:

- (A) O exercício da leitura na vida das crianças é fundamental para que elas aprimorem suas capacidades mentais.
- (B) A prática de leitura contribui com uma boa iniciação no uso do sistema ortográfico e no avanço escolar das crianças.
- (C) Livros que se utilizam de linguagem não verbal ajudam às crianças a fazerem novas descobertas.
- (D) Ler livros de ficção permite com que o jovem se conheça melhor, assim como seus pensamentos e sentimentos.

QUESTÃO 06

O emprego do hífen na palavra “super-estimulação”, presente no décimo parágrafo, encontra-se:

- (A) Correto, pois se trata de uma palavra formada com o prefixo *super*, devendo este estar sempre acompanhado de hífen.
- (B) Correto, uma vez que se observa que o segundo elemento é iniciado por vogal.
- (C) Incorreto, visto que o segundo elemento não se inicia pela letra *r* e nem pela letra *h*.
- (D) Incorreto, sendo que se trata de duas palavras e estas possuem relações semânticas distintas.

QUESTÃO 07

O emprego do sinal indicativo de crase ocorre quando há a contração da preposição “a” com o artigo “a” ou com alguns pronomes que se iniciam também por “a”. A partir de tal afirmação, verifica-se um desvio gramatical em:

- (A) A leitura é constantemente associada à inúmeros benefícios relacionados ao desenvolvimento.
- (B) As histórias são capazes de ativar a imaginação dos pequenos.
- (C) A literatura permite às crianças passarem um tempo dentro da mente de outra pessoa.
- (D) Os pequenos também são expostos a diferentes tipos de pessoas.

QUESTÃO 08

Com relação aos termos destacados em “Os smartphones emitem uma **luz azul** prejudicial”, é correto afirmar que, na frase em questão, tratam-se, respectivamente, de:

- (A) Um advérbio e um substantivo.
- (B) Um substantivo e um adjetivo.
- (C) Dois substantivos.
- (D) Um adjetivo e um advérbio.

QUESTÃO 09

Na oração “Esses benefícios são desenvolvidos a longo prazo, até a idade adulta”, verifica-se a presença de sujeito:

- (A) Oculto.
- (B) Indeterminado.
- (C) Simples.
- (D) Composto.

QUESTÃO 10

Todas as palavras abaixo são sinônimas da palavra destacada em “Os especialistas recomendam que os pais ofereçam bons livros para seus filhos, já que uma boa narrativa também pode ser um ótimo **entretenimento**”, **exceto**:

- (A) Divertimento.
- (B) Desenfadamento.
- (C) Passatempo.
- (D) Contentamento.

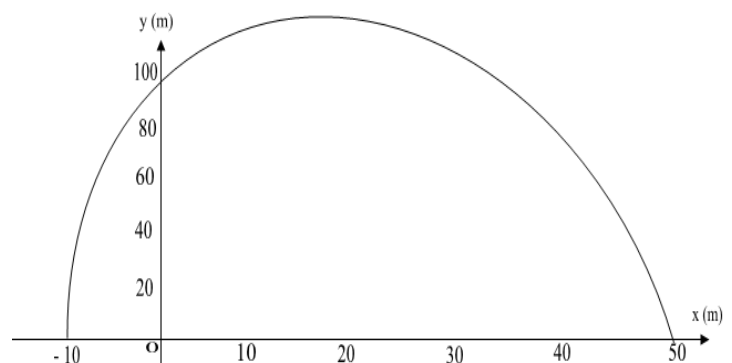
MATEMÁTICA
QUESTÃO 11

Um pequeno produtor da zona rural brasileira tem uma plantação de dois tipos de pimentas: vermelha e amarela. Sabe-se que uma parte dessa plantação é exportada para China, outra para o México e o restante é para vender no Brasil. Tudo é contabilizado em caixas, das quais 1.170 eram de pimentas amarelas. Dessas, 150 seriam exportadas para China e México, e 340 não eram para exportação. 100 caixas de pimentas vermelhas iriam, apenas, para China, e 730, do mesmo tipo de pimenta, iriam exclusivamente para o México. Do total de caixas dos dois tipos de pimenta, 110 não seriam exportadas e somente para o México iriam 1.330. Sabendo que 80 caixas de pimentas amarelas seriam enviadas unicamente para China, qual a quantidade de caixas de pimentas vermelhas iria para o México e China ao mesmo tempo?

- (A) 80 caixas.
- (B) 250 caixas.
- (C) 300 caixas.
- (D) 90 caixas.

QUESTÃO 12

Um jogador amador de golfe realizou uma tacada em que a trajetória da bola descreveu uma parábola representada pelo gráfico a seguir.

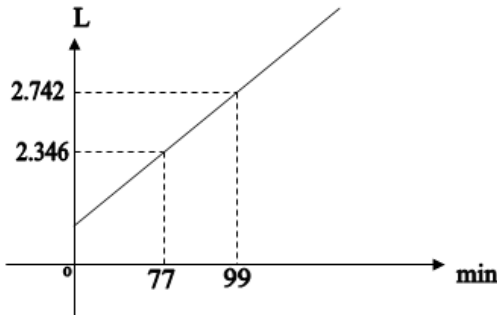


Qual a lei da função quadrática que descreve corretamente o gráfico acima?

- (A) $f(x) = -\frac{2}{5}x^2 + 4x + 100$
- (B) $y = -\frac{2}{5}x^2 - 4x + 100$
- (C) $f(x) = -\frac{1}{5}x^2 - 8x + 100$
- (D) $y = -\frac{1}{5}x^2 + 8x + 100$

QUESTÃO 13

Em uma escola pública do município de São João do Araguaia há um reservatório/cisterna de água que possui 6000L (seis mil litros) de capacidade. Uma bomba d'água é ligada automaticamente quando a cisterna atinge certo nível de água e é desligada, também automaticamente, no instante em que ela completa sua capacidade. O gráfico abaixo representa o tempo que a bomba leva para encher completamente o reservatório desde o momento em que é ligada até o instante em que é desligada, automaticamente.



De acordo com o gráfico, em qual das alternativas abaixo está **correta** a função que representa o tempo que a bomba leva para encher completamente o reservatório?

- (A) $y = -77t - 960$
 (B) $f(t) = 26t + 960$
 (C) $g(t) = 21t - 960$
 (D) $h(t) = 18t + 960$

QUESTÃO 14

Um restaurante implementou na sua lista de cardápio a opção de uma jarra de suco "tamanho família" que é servida em um recipiente conforme a figura (I). Este restaurante possui um reservatório de suco como o ilustrado na figura (II).

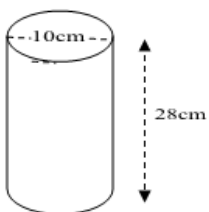


Figura (I)

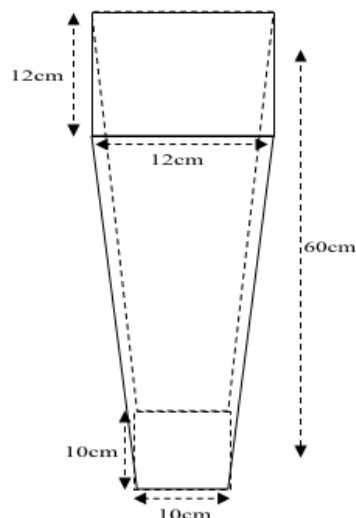


Figura (II)

Quantas jarras completas "tamanho família", no máximo, o restaurante pode vender com esse reservatório cheio?

- (A) 2 jarras.
 (B) 3 jarras.
 (C) 4 jarras.
 (D) 5 jarras.

QUESTÃO 15

Uma loja de eletrodomésticos está fazendo a seguinte promoção:

**TV 52" EM 12 X de R\$ 411,92
 OU 30% DE DESCONTO À VISTA
 E MAIS 10% SE FOR A PRIMEIRA COMPRA NA
 LOJA.**

Um cliente que for comprar pela primeira vez na loja, e ainda pagar à vista, vai economizar, aproximadamente, quanto em dinheiro?

- (A) R\$ 1.977,20.
 (B) R\$ 1.483,60.
 (C) R\$ 494,40.
 (D) R\$ 648,00.

NOÇÕES DE INFORMÁTICA**QUESTÃO 16**

Uma rede de computadores consiste em máquinas interligadas compartilhando recursos e informações entre si, principalmente em locais como escritórios. A necessidade de se conectar com outros módulos deu origem a outros tipos de estruturas de rede, como LAN, MAN, WAM, WLAN e PAN.

Quando uma empresa deseja conectar as máquinas de seus escritórios que estão em uma mesma cidade constitui uma estrutura de rede:

- (A) WAN.
 (B) MAN.
 (C) WLAM.
 (D) PAN.

QUESTÃO 17

A planilha de cálculo do Excel possui uma variedade de funções que estão separadas por categorias como Estatística e Matemática e Trigonométrica.

Com os valores da planilha abaixo, usando as funções CONT.NÚM(J1:L3) e SOMA(J1:L3) nas células J4 e J5, vamos obter os resultados, respectivamente:

	J	K	L
1	16	G	9
2	32	12	C
3	A	7	15
4			
5			

- (A) 6 e 91
 (B) 9 e #Valor!
 (C) #NUM! e #Valor!
 (D) 91 e #NUM!

QUESTÃO 18

O Excel, com sua ferramenta de gráficos, possibilita ao usuário resumir seu relatório, de maneira que todos, no momento que visualizarem o gráfico, possam fazer uma leitura rápida e de bom entendimento.

Ao selecionarmos um intervalo de dados para criar um gráfico em outra aba, podemos usar a tecla de atalho:

- (A) F11
- (B) Ctrl+G
- (C) F7
- (D) Alt+Shift+G

QUESTÃO 19

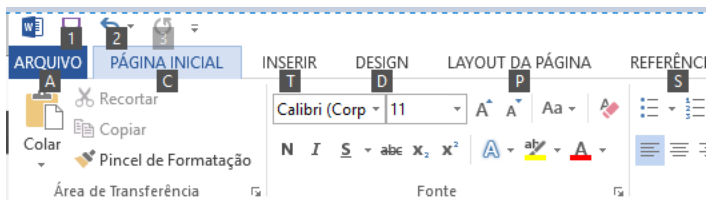
Para a segurança de navegação, os navegadores de internet possuem ferramentas que impossibilitam que outro usuário do computador veja quais páginas foram visitadas por você, bastando usar o recurso InPrivate.

No Google Chrome, quais as teclas combinadas que acionam o atalho para acesso a este recurso?

- (A) Ctrl+Shift+B
- (B) Ctrl+Shift+T
- (C) Ctrl+Shift+D
- (D) Ctrl+Shift+N

QUESTÃO 20

O aplicativo de edição de texto MS Word oferece ferramentas e recursos que ajudam o usuário no desenvolvimento de textos. A imagem abaixo ilustra teclas de atalho para disponibilizar recursos no modo de exibição atual.



Qual a tecla que deve ser pressionada para serem exibidas estas teclas de atalho?

- (A) Insert
- (B) Alt Gr
- (C) Alt
- (D) Ctrl

CONHECIMENTOS GERAIS E LEGISLAÇÃO**QUESTÃO 21**

A Lei Orgânica do Município de São João do Araguaia/PA no Artigo 71 *caput* e parágrafo 3º, prevê que o subsídio do Prefeito e do Vice-Prefeito será fixado pela Câmara Municipal em cada legislatura para a subsequente até 30 (trinta) dias antes das eleições municipais na forma da Constituição Federal e Leis em vigor.

Disponível em: <http://www.saojoaodoaraguaia.pa.gov.br/>. Acesso em: 25/04/2018.

Acerca dos subsídios dispostos na Lei Orgânica do Município de São João do Araguaia, pode-se afirmar:

- (A) O subsídio do Vice-Prefeito corresponderá a 70% (setenta por cento) do que perceber a esse título o prefeito.
- (B) O Vice-Prefeito receberá como subsídio o correspondente a 50% (cinquenta por cento) do que perceber o prefeito.
- (C) O subsídio do Vice-Prefeito será equivalente a 40% (quarenta a por cento) do que perceber o prefeito mensalmente.
- (D) O Vice-Prefeito perceberá a título de subsídio 70% (setenta por cento) do que perceberá o prefeito, mais adicional de 10% toda vez que substituí-lo no cargo.

QUESTÃO 22

O Artigo 61 *caput* da Lei orgânica do Município de São João do Araguaia/PA preceitua que o Prefeito e o Vice-Prefeito tomarão posse e assumirão o exercício em sessão solene de instalação da Câmara Municipal no dia 1º de janeiro do ano subsequente à eleição às 16 (dezesseis) horas, prestando compromisso de manter, defender e cumprir as Constituições Federal, Estadual e esta Lei Orgânica, observar as Leis e promover o bem geral do Município. Contudo, no parágrafo 1º deste artigo consta uma observação de suma importância.

Disponível em: <http://www.saojoaodoaraguaia.pa.gov.br/>. Acesso em: 25/04/2018.

Em qual alternativa consta a observação do parágrafo 1º do artigo 61 da Lei referida no texto acima?

- (A) Caso o Prefeito e o Vice-Prefeito não assumirem na data fixada e decorridos 10 (dez) dias, será convocada uma nova eleição para os cargos de Prefeito e Vice-Prefeito.
- (B) Se, na data fixada para a posse do Prefeito e Vice-Prefeito, estes não comparecerem, o Presidente da Câmara convocará eleição entre os vereadores para escolher os substitutos para os cargos vagos.
- (C) Decorridos 10 (dez) dias da data fixada para a posse, se o Prefeito e o Vice-Prefeito não assumirem o cargo, será considerado vago, salvo por motivo de força maior aceito pela Câmara.
- (D) Decorrendo 15 (quinze) dias da data para a posse, se o Prefeito e o Vice-Prefeito não assumirem o cargo, este será considerado vago e o presidente da Câmara assumirá.

QUESTÃO 23

A Lei nº 1.728/91 que dispõe sobre o Estatuto dos Funcionários Públicos do Município de São João do Araguaia/PA, aborda em seu artigo 47 e parágrafo único, que o servidor que estiver em débito com o erário e for demitido, exonerado ou tiver sua aposentadoria ou disponibilidade cassada terá um prazo para quitar o débito e se não o fizer sofrerá sanção legal.

Disponível em: <http://www.saojoaodoaraguaia.pa.gov.br/>. Acesso em: 25/04/2018.

Conforme as afirmações acima, qual alternativa apresenta o prazo para quitação do débito, de acordo com a legislação municipal?

- (A) Prazo de 60 (sessenta) dias para quitar o débito e se não o fizer no prazo será inscrito na dívida ativa.
- (B) Prazo de 45 (quarenta e cinco) dias para quitar o débito e se não o fizer no prazo será inscrito na dívida ativa.
- (C) Prazo de 90 (noventa) dias para quitar o débito e se não o fizer no prazo será inscrito na dívida ativa.
- (D) Prazo de 30 (trinta) dias para quitar o débito e se não o fizer no prazo será inscrito na dívida ativa.

QUESTÃO 24

“Em meados da década de 1970, a abertura da Rodovia Transamazônica provocou um forte impacto socioeconômico no município de São João do Araguaia/PA, tendo toda a sua cadeia produtiva modificada, passando de uma localidade focada basicamente no extrativismo para _____.”

Disponível em: <http://www.saojoaodoaraguaia.pa.gov.br/>. Acesso em: 25/04/2018.

Qual alternativa completa adequadamente o texto?

- (A) Iniciar a atividade madeireira em larga escala.
- (B) Tornar-se integrante da Fronteira Agrícola Amazônica.
- (C) Dar início à criação e o abate de bovino.
- (D) Dar início à produção de grãos e criação de bubalinos.

QUESTÃO 25

Na década de 1870, foi fundado, também na região sudeste do Estado do Pará, um novo povoado com o nome de Alcobaça e um pequeno fortim à beira do Rio Tocantins, sob a denominação de Nossa Senhora de Nazaré. Dez anos depois, o Governador e Capitão-General Francisco de Souza Coutinho organizaram uma expedição mercantil comandada pelo Cabo Tomaz de Souza à região Sudeste do Pará.

Disponível em:

<https://biblioteca.ibge.gov.br/visualizacao/dtbs/para/saojoaodoaraguaia.pdf>. Acesso em: 05/05/2018.

De acordo com as afirmações acima, qual alternativa contém o verdadeiro objetivo das expedições feitas à região Sudeste Paraense?

- (A) Evitar a invasão do Estado Pará pelo Estado de Goiás.
- (B) Criar a fronteira territorial entre os Estados de Goiás e do Mato Grosso.
- (C) Colonizar o Alto Tocantins e incentivar o intercâmbio comercial entre o Pará e o Goiás.
- (D) Não permitir a entrada de maranhenses ao Estado do Pará.

QUESTÃO 26

A Lei Orgânica do Município de São João do Araguaia/PA dispõe em seu Artigo 54 sobre o Projeto de Decreto Legislativo e no artigo 55 sobre o Projeto de Resolução. O primeiro produz efeitos externos e o segundo regula matéria político-administrativa da Câmara.

Disponível em: <http://www.saojoaodoaraguaia.pa.gov.br/>. Acesso em: 25/04/2018.

Com base na Lei Orgânica de São João do Araguaia, no que concerne a Projetos de Decretos Legislativo e Projetos de Resolução, pode-se afirmar que:

- (A) Após a aprovação entram em vigor automaticamente.
- (B) Após a aprovação dependem de sanção do Prefeito.
- (C) Após a aprovação dependem de sanção do presidente da Câmara e do Prefeito.
- (D) Após a aprovação para entrar em vigor não dependem de sanção do Prefeito.

QUESTÃO 27

A produção de carvão vegetal é a atividade econômica que obteve destaque recente no município de São João do Araguaia/PA, a produção carvoeira começou na década de 1990 e cresceu muito rapidamente. No entanto, a produção de carvão, assim como a indústria madeireira, causava enorme degradação do meio ambiente, pois destruíam grandes áreas de florestas para ser produzido. As indústrias carvoeiras e siderúrgicas de Marabá passaram a utilizar outro tipo de matéria prima.

Disponível em: <http://www.saojoaodoaraguaia.pa.gov.br/>. Acesso em: 25/04/2018.

A partir da situação descrita acima, qual foi a mudança ocasionada?

- (A) Por força de lei, as indústrias carvoeiras e siderúrgicas foram obrigadas a investir em reflorestamento e produzir carvão do coco da palmeira babaçu.
- (B) A partir da conscientização ecológica, as indústrias carvoeiras e siderúrgicas encerraram as atividades que utilizavam o carvão vegetal.
- (C) Por determinação legal foi proibida a atividade madeireira no município.
- (D) O carvão vegetal passou a ser produzido a partir do coco da palmeira macaúba.

QUESTÃO 28

A Lei Orgânica do município São João do Araguaia/PA estabelece em seu artigo 127 que o Estado entregará ao Município um percentual dos recursos que receberá da União a título de participação do Imposto sobre Produtos Industrializados, observados os critérios estabelecidos no artigo 158, parágrafo único, incisos I e II da Constituição Federal de 1988.

Disponível em: <http://www.saojoaodoaraguaia.pa.gov.br/>. Acesso em: 25/04/2018.

Baseando-se nesta afirmação, em qual alternativa consta o percentual de recursos previsto na referida Lei?

- (A) 15% (quinze por cento).
- (B) 18% (dezoito por cento).
- (C) 25% (vinte e cinco por cento).
- (D) 10% (dez por cento).

QUESTÃO 29

De acordo com a Lei n° 1.728/ 91, que dispõe sobre o Estatuto dos Funcionários Públicos do Município de São João do Araguaia/PA, em seu Artigo 37, estabelece que o deslocamento do servidor, de um respectivo cargo para outro, cujos planos de cargos e vencimentos sejam idênticos, observado sempre o interesse da administração, é denominado de:

- (A) Readaptação.
- (B) Recondição.
- (C) Remoção.
- (D) Redistribuição.

QUESTÃO 30

No dia 11 de dezembro de 2011, houve uma consulta plebiscitária referente à divisão territorial do Estado do Pará, ocasião em que os eleitores paraenses rejeitaram a proposta de divisão em que seriam criados três diferentes territórios: o próprio Pará e os Estados do Tapajós e do Carajás.

Disponível em: <https://brasilescola.uol.com.br>. Acesso em: 07/05/2018.

Com relação à consulta popular por meio de plebiscito e referendo, pode-se afirmar:

- (A) O plebiscito e o referendo têm a mesma finalidade.
- (B) O referendo só é utilizado quando a população é consultada em casos de emancipação de município.
- (C) A consulta plebiscitária é utilizada em casos de divisão de território acima de duas unidades federativas.
- (D) O plebiscito consulta a população antes da aprovação ou apreciação de uma determinada lei pela Câmara dos Deputados, Senado Federal e Presidência da República.

CONHECIMENTOS ESPECÍFICOS

QUESTÃO 31

Em relação à Análise de Perigo e Pontos Críticos de Controle (APPCC), podemos dizer que é um sistema de controle relacionado à segurança do alimento através da análise e controle dos riscos físicos, químicos e biológicos, desde a produção da matéria-prima, suprimento e manuseio até fabricação, distribuição e consumo do produto acabado.

Em relação ao APPCC, pode-se afirmar:

- (A) São critérios para prescrição dietética na área de nutrição clínica e de qualquer outra área que venha lidar com alimentos direta ou indiretamente, tendo sido criado pelos países asiáticos e implantados pela união europeia no Brasil, para que o mesmo possa exportar seus produtos de origem animal.
- (B) Esta norma classifica a cadeia alimentar como todas as atividades relacionadas à produção, beneficiamento, armazenamento, transporte e consumo.
- (C) Está relacionada ao consumo de alimentos, sem considerar suas interações com o meio ambiente, o homem e seu contexto socioeconômico.
- (D) Pode ser considerada como uma metodologia sistemática de identificação, avaliação e controle de perigos de contaminação dos alimentos.

QUESTÃO 32

A avaliação do consumo alimentar é uma área de extrema importância na pesquisa e responsável pela obtenção de dados referentes à alimentação de indivíduos e populações, sendo possível realizar o diagnóstico e possível intervenção nutricional, contribuindo para atingir o estado nutricional adequado, colaborando para a saúde e qualidade de vida.

Disponível em: http://www.nutricaoempauta.com.br/lista_artigo.php?cod=1303. Acesso em 20/04/2018.

Dentre as ferramentas da avaliação do consumo alimentar, destacam-se os inquéritos alimentares, os quais possuem:

- (A) Baixo custo de aplicação, são invasivos e podem fornecer diversas informações fundamentais sobre a alimentação, dentre outras vantagens de aplicação.
- (B) Baixo custo de aplicação, não são invasivos e podem fornecer diversas informações fundamentais sobre a alimentação, dentre outras vantagens de aplicação.
- (C) Alto custo de aplicação, são invasivos e podem fornecer diversas informações fundamentais sobre a alimentação, dentre outras vantagens de aplicação.
- (D) Baixo custo de aplicação, não são invasivos, porém não podem fornecer diversas informações fundamentais sobre a alimentação, por isso, acaba sendo uma desvantagem a sua aplicação.

QUESTÃO 33

A anemia é definida por valores de hemoglobina (Hb) no sangue abaixo do normal para idade e gênero. É um dos principais problemas de saúde pública mundial, chegando a afetar mais de um quarto da população do planeta, ou seja, mais de 2 bilhões de pessoas em todo o mundo. A metade dos casos é determinada por deficiência de ferro (DF), a deficiência nutricional mais prevalente e negligenciada no mundo, particularmente entre as mulheres e as crianças dos países em desenvolvimento. É também significativamente prevalente nos países industrializados e afeta pessoas de todas as idades em todos os países.

Disponível em: <http://portal.arquivos.saude.gov.br/images/pdf/2014/dezembro/15/Anemia-por-Deficiencia-de-Ferro.pdf>. Acesso em 20/04/2018.

Em relação à prevalência de anemia por deficiência de ferro, pode-se afirmar que:

- (A) Aumenta em populações com carências nutricionais; com ingestão ou absorção inadequada de ferro; hábitos vegetarianos; dietas com muito chá ou café, que inibem a absorção de ferro, ou sem vitamina C (frutas cítricas), que favorece a sua absorção.
- (B) Aumenta em populações com ingestão ou absorção inadequada de ferro; hábitos vegetarianos; dietas com muito açúcar, que inibe a absorção de ferro, ou sem vitamina D, que favorece a sua absorção.
- (C) Aumenta em populações ovolactovegetarianas; dietas com muito couve, que inibe a absorção de ferro, ou sem vitamina E, que favorece a sua absorção.
- (D) Aumenta nas populações nordestinas devido a baixa ingestão ou absorção inadequada de ferro; hábitos vegetarianos muito comuns, que inibem a absorção de ferro, ou sem vitamina D, que favorece a sua absorção.

QUESTÃO 34

A Desnutrição é uma doença de natureza clínico-social multifatorial cujas raízes se encontram na pobreza. A desnutrição grave acomete todos os órgãos da criança, tornando-se crônica e levando a óbito, caso não seja tratada adequadamente. Pode começar precocemente na vida intrauterina (baixo peso ao nascer) e frequentemente cedo na infância, em decorrência da interrupção precoce do aleitamento materno exclusivo e da alimentação complementar inadequada nos primeiros 2 anos de vida, associada, muitas vezes, à privação alimentar ao longo da vida e à ocorrência de repetidos episódios de doenças infecciosas (diarreias e respiratórias). Isso gera a desnutrição primária. Outros fatores de risco na gênese da desnutrição incluem problemas familiares relacionados com a situação socioeconômica, precário conhecimento das mães sobre os cuidados com a criança pequena (alimentação, higiene e cuidados com a saúde de modo geral) e o fraco vínculo mãe e filho.

Disponível em:
http://bvsm.s.saude.gov.br/bvs/publicacoes/manual_desnutricao_crianças.pdf. Acesso em 20/04/2018.

Em relação à prevenção e o controle da desnutrição, pode-se afirmar:

- (A) A implantação de medidas mais amplas e eficientes de combate à pobreza e à fome, além de políticas de inclusão social, resolveriam a vida dessa população que não é tão grande.
- (B) Medidas simples de combate à pobreza e a fome e políticas de inclusão social resolveriam o problema.
- (C) O sucesso obtido no tratamento da criança hospitalizada deve ter sua continuidade assegurada por meio de medidas adequadas no ambulatório, na comunidade e no domicílio.
- (D) A definição das áreas de atuação do nutricionista serviria para estabelecer parâmetros numéricos de referência por área de desnutrição, sendo mais simples de controlar.

QUESTÃO 35

Em relação às interações entre drogas e nutrientes, pode-se afirmar:

- (A) Ácido acetilsalicílico (comprimido simples) - Reduz a absorção de Vitamina C, Vitamina B1, Vitamina K e ácido fólico.
- (B) Amoxicilina cápsula ou suspensão - O alimento afeta a biodisponibilidade do fármaco, assim como a redução de Vitamina A no organismo.
- (C) Azitromicina comprimido simples ou suspensão - O alimento pode afetar sua biodisponibilidade, sendo que a suspensão oral tem sua absorção reduzida em até 56%, e os comprimidos reduzidos em 23% na absorção.
- (D) Captopril comprimido simples - A presença do alimento aumenta a absorção em 10% a 54%.

QUESTÃO 36

O cardápio é definido como a lista de preparações culinárias que compõe uma refeição ou lista de preparações que compõem todas as refeições de um dia ou período determinado. Para tal, utilizam-se de padrões nutricionais e reconhecimento das técnicas dietéticas dos alimentos a fim de atender às leis da alimentação.

Fonte: BERNARDES, 1997.

O cardápio pode também ser chamado menu, lista ou carta. Nos serviços comerciais, é um veículo de informações, venda e publicidade de um restaurante, e tem por finalidade auxiliar os clientes na escolha de alimentos e/ou bebidas.

Fonte: SILVA & BERNARDES, 2002.

Sobre a elaboração de cardápios, pode-se afirmar:

- (A) O cardápio deve ser elaborado de forma a permitir uma escolha saudável com alimentos ricos em fibras e alimentos funcionais, não devendo conter gorduras saturadas.
- (B) Devem promover informação sobre as condições nutricionais das crianças e o tipo de alimentação.
- (C) O cardápio deve ser elaborado de forma que as quantidades de carboidrato sejam sempre menores que as de proteínas, e permitir uma escolha saudável com alimentos funcionais, além de gorduras insaturadas.
- (D) Os cardápios devem ser balanceados, de modo a satisfazer as necessidades energéticas e em nutrientes, garantindo, ao mesmo tempo, saúde, capacitação para o trabalho e "performance" física desejável ao indivíduo.

QUESTÃO 37

A avaliação contínua do perfil alimentar e nutricional da população e seus fatores determinantes compõe a Vigilância Alimentar e Nutricional (VAN). Recomenda-se que nos serviços de saúde seja realizada avaliação de consumo alimentar e antropometria de indivíduos de todas as fases da vida (crianças, adolescentes, adultos, idosos e gestantes) e que estas observações possam ser avaliadas de forma integrada com informações provenientes de outras fontes de informação, como pesquisas, inquéritos e outros Sistemas de Informações em Saúde (SIS) disponíveis no SUS.

Disponível em: http://dab.saude.gov.br/portaldab/ape_vigilancia_alimentar.php/. Acesso em 20/04/2018.

Segundo o departamento de atenção básica do Ministério da Saúde, para exercer a Vigilância Alimentar e Nutricional ampliada, é importante a adoção de diferentes estratégias de vigilância epidemiológica, como:

- (A) Avaliação nutricional em todas as maternidades com o objetivo de acompanhar a criança desde o nascimento até a idade pré-escolar.
- (B) Produtos como soja, milho e trigo, devido ao grande valor calórico desses alimentos, devem ser introduzidos na alimentação de famílias, estimulando também o desenvolvimento industrial local.
- (C) Produtos da agricultura intensiva, pois esta medida estimula o desenvolvimento econômico e sustentável das regiões.
- (D) Inquéritos populacionais, chamadas nutricionais, produção científica, com destaque para a VAN nos serviços de saúde.

QUESTÃO 38

Doenças transmitidas por alimentos (DTAs) são todas ocorrências clínicas consequentes à ingestão de alimentos que possam estar contaminados com micro-organismos patogênicos (infecciosos, toxinogênicos ou infestantes), toxinas de microrganismos, substâncias químicas, objetos lesivos ou que contenham, em sua constituição, estruturas naturalmente tóxicas, ou seja, são doenças consequentes da ingestão de perigos biológicos, químicos ou físicos presentes nos alimentos.

Disponível em: <http://www.vigilanciasanitaria.sc.gov.br/index.php/inspecao-de-produtos-e-servicos-de-saude/alimentos/91-area-de-atuacao/inspecao-de-produtos-e-servicos-de-saude/alimentos/415-doenca-transmitida-por-alimento-dta>. Acesso em 25/04/2018.

Segundo a vigilância sanitária, um surto de DTA pode ser definido como:

- (A) Um incidente em que duas ou mais pessoas apresentam uma enfermidade semelhante após a ingestão de um mesmo alimento ou água, e as análises epidemiológicas apontam os mesmos como a origem da enfermidade.
- (B) Um único caso de diarreia ou disenteria amebiana pode ser suficiente para desencadear ações relativas a um surto devido à gravidade desses agentes.
- (C) Um incidente em que um número maior que 50% dos comensais apresentam uma enfermidade semelhante após a ingestão de um mesmo alimento ou água, e as análises epidemiológicas apontam os mesmos como a origem da enfermidade.
- (D) Um incidente em que um número maior que 20% dos comensais apresentam uma enfermidade semelhante após a ingestão de um mesmo alimento ou água, e as análises epidemiológicas apontam os mesmos como a origem da enfermidade.

QUESTÃO 39

As leis da alimentação foram criadas por Pedro Escudero, um médico argentino, há mais de 70 anos. Foram criadas com o objetivo de expressar como deve ser a base de uma boa alimentação, permanecendo bem atuais até os dias de hoje, pois expressam, de uma maneira simples, como deve ser a base de uma alimentação saudável. Quais são as quatro leis da alimentação?

- (A) Qualidade, satisfação, aceitação e reabilitação.
- (B) Qualidade, aceitabilidade, harmonia e reabilitação.
- (C) Quantidade, qualidade, harmonia e adequação.
- (D) Quantidade, adequação, harmonia e aceitação.

QUESTÃO 40

Em relação à orientação nutricional para a nutriz, são **corretas** as seguintes orientações abaixo:

- (A) Quanto mais o bebê sugar, maior será a produção de leite, podendo o mesmo cristalizar; beba bastante leite, de 02 a 03 vezes por dia, para garantir a produção de leite.
- (B) Amamente exclusivamente até os 6 meses de vida, nos primeiros dias você terá o colostro, que é um leite transparente ou amarelo, produzido em pequena quantidade e que pode durar de 02 a 07 dias, ele é suficiente para atender as necessidades do bebê e funciona como uma vacina, evitando infecções; não faça nenhuma dieta para emagrecer neste período de amamentação exclusiva, pois a restrição alimentar atrapalha a qualidade do seu leite e o desenvolvimento do seu bebê.
- (C) Ofereça apenas chás para evitar gases na criança, água, sucos ou outro leite nos primeiros meses de vida, pois as ofertas desses não atrapalha a amamentação, não substitua o leite materno por bicos, somente chupetas, chuquinhas ou mamadeira, pois eles não atrapalham a amamentação.
- (D) Consuma frutas de preferência sem a casca e/ou sem bagaço quando possível; coma carnes e aves magras e peixe pelo menos 2 vezes por semana; evite o consumo de azeite devido a fermentação nas saladas; cautela no consumo de café, chá mate, chá preto, refrigerantes e bebidas alcoólicas.