



PROCESSO SELETIVO PÚBLICO  
PREFEITURA MUNICIPAL DE SÃO FRANCISCO DO PARÁ  
EDITAL 01/2020



## CADERNO DE QUESTÕES

AGENTE COMUNITÁRIO DE SAÚDE - ACS

CANDIDATO \_\_\_\_\_ INSCRIÇÃO \_\_\_\_\_

### INSTRUÇÕES AO CANDIDATO

1. Este CADERNO DE QUESTÕES contém 35 (trinta e cinco) QUESTÕES de múltipla escolha referente à Prova Objetiva, correspondentes ao cargo de sua concorrência.
2. Cada questão objetiva de múltipla escolha apresenta 5 (quatro) alternativas identificadas com as letras A, B, C, D e E sendo apenas 1 (uma) correta.
3. Confira se o seu CADERNO DE QUESTÕES contém a quantidade de questões descritas no item 1 e se o cargo para o qual você foi inscrito está correto. Caso esteja incompleto ou apresente qualquer defeito, comunique imediatamente ao fiscal de sala, para que seja realizada a substituição.
4. Observe, na FOLHA DE RESPOSTAS, se seus dados estão registrados corretamente. Caso haja alguma divergência, comunique ao fiscal de sala.
5. Após conferência, assine seu nome no espaço próprio na FOLHA DE RESPOSTAS e no CADERNO DE QUESTÕES.
6. OBRIGATORIAMENTE a FOLHA DE RESPOSTAS deverá ser preenchida com caneta esferográfica feita em material transparente de tinta preta ou azul.
7. Não é permitida, no momento da prova, a comunicação entre os candidatos, bem como a utilização de aparelhos eletrônicos (calculadora, telefone celular, tablet, etc.), óculos escuros, protetor auricular, boné, relógios, livros, anotações, impressos ou qualquer outro material de consulta.
8. A saída de candidato da sala de prova somente será permitida depois de transcorrido o tempo de 01 (uma) hora do início da prova (apontado em sua sala de prova), mediante a entrega obrigatória da sua folha de respostas e do seu caderno de questões ao fiscal de sala.
9. O candidato poderá, ao terminar sua prova, levar o Caderno de Questões SOMENTE faltando 30 (trinta) minutos para o tempo previsto do seu término.
10. O tempo disponível para a prova é de 03 (três) horas.
11. Será eliminado do concurso e terá sua prova anulada o candidato (a) que: NÃO ASSINAR A LISTA DE PRESENÇA e/ou a FOLHA DE RESPOSTAS.
12. Os três últimos candidatos, ao terminar a prova, só poderão sair juntos. BOA PROVA!

DESTAQUE AQUI NESSA LINHA

1	<input type="text"/>	6	<input type="text"/>	11	<input type="text"/>	16	<input type="text"/>	21	<input type="text"/>	26	<input type="text"/>	31	<input type="text"/>
2	<input type="text"/>	7	<input type="text"/>	12	<input type="text"/>	17	<input type="text"/>	22	<input type="text"/>	27	<input type="text"/>	32	<input type="text"/>
3	<input type="text"/>	8	<input type="text"/>	13	<input type="text"/>	18	<input type="text"/>	23	<input type="text"/>	28	<input type="text"/>	33	<input type="text"/>
4	<input type="text"/>	9	<input type="text"/>	14	<input type="text"/>	19	<input type="text"/>	24	<input type="text"/>	29	<input type="text"/>	34	<input type="text"/>
5	<input type="text"/>	10	<input type="text"/>	15	<input type="text"/>	20	<input type="text"/>	25	<input type="text"/>	30	<input type="text"/>	35	<input type="text"/>

## LÍNGUA PORTUGUESA

Texto para as questões 1, 2, 3, 4 e 5.

### **Covid-19: Brasil deve enfrentar pior fase da pandemia nas próximas semanas.**

*André Biernath - Da BBC News Brasil em São Paulo  
20/01/2021 07h21*

Nos últimos dias, a pandemia no Brasil foi marcada por imagens de dor e de esperança. De um lado, a falta de oxigênio em Manaus mostrou a tragédia causada pela falta de coordenação contra a covid-19. Do outro, a aprovação das primeiras vacinas deu o primeiro sinal, ainda bem distante, de que essa crise sanitária vai ter um fim. Em meio a tantas notícias, especialistas ouvidos pela BBC News Brasil alertam que a situação da pandemia no país deve se agravar entre o final de janeiro e o início de fevereiro.

"Estamos num momento bem preocupante. Talvez as pessoas não estejam percebendo ainda, mas tudo indica que as próximas semanas serão complicadas", antevê o bioinformata Marcel Ribeiro-Dantas, pesquisador do Institut Curie, na França. De acordo com o levantamento feito pelo Conass (Conselho Nacional de Secretários da Saúde), o país contabiliza até o momento 8,5 milhões de casos e 210 mil mortes por covid-19. Nos últimos dias, a confirmação de novas infecções e óbitos pela doença tem se mantido num patamar considerado alto.

A tendência, de acordo com epidemiologistas, bioinformatas e cientistas de dados ouvidos pela reportagem, é que esses números se mantenham elevados ou subam ainda mais daqui para a frente. Mas qual a razão para isso? Há fatores que ajudam a explicar esse momento da pandemia no Brasil.

### **Efeito Natal e Réveillon**

Não foram poucos os relatos de aglomerações nos últimos dias de dezembro. A respeito das orientações das autoridades em saúde pública, muitos familiares e amigos resolveram se reunir para celebrar o Natal e a passagem para 2021.

Os efeitos das festas começam a ser sentidos agora. E isso pode ser explicado pela própria dinâmica da covid-19 e o tempo que a doença demora a se manifestar e se desenvolver.

"A transmissão do vírus pode até ter ocorrido durante essas festas, mas a necessidade de ficar num hospital ou até a morte do paciente leva semanas para acontecer", nota o estatístico Leonardo Bastos, pesquisador em saúde pública da Fundação Oswaldo Cruz (Fiocruz), no Rio de Janeiro.

Em linhas gerais, o indivíduo que é contaminado pelo coronavírus pode demorar até 14 dias para ter algum sintoma (como febre, tosse seca, dores, cansaço e falta de paladar ou olfato).

O problema é que, nesse ínterim, ele pode transmitir o agente infeccioso para outras pessoas, criando novas cadeias de transmissão na comunidade.

Já nos quadros mais graves da doença, que evoluem para falta de ar e acometimento dos pulmões, há uma janela de cerca de sete dias entre o contato com o vírus e a necessidade de internação.

Depois da hospitalização, os pacientes que morrem por covid-19 podem ficar até cinco semanas num leito antes de falecer.

Considerando esse tempo todo de evolução da doença e o atraso nas notificações, é de se esperar que as infecções pelo coronavírus que aconteceram entre os dias 24 de dezembro e 1º de janeiro apareçam com mais frequência nos boletins epidemiológicos daqui pra frente.

Essa bola de neve do final de ano pode ser emendada com outra, provocada pelas aglomerações relacionadas ao Enem. É preciso considerar que, no último domingo (17), mais de 2,5 milhões de brasileiros se deslocaram até o local da prova e permaneceram por várias horas em locais fechados com desconhecidos ao redor.

Os epidemiologistas e cientistas de dados poderão medir o efeito dessa movimentação nas cidades brasileiras a partir de fevereiro ou março.

### QUESTÃO 01

A partir de uma leitura atenta do texto, marque a alternativa que faz uma relação correta entre a ideia destacada e a explicação correspondente na alternativa.

- (A) “Nos últimos dias, a pandemia no Brasil foi marcada por imagens de dor e de esperança” (1º parágrafo). É possível afirmar que nos últimos dias, houve certeza de que a crise do coronavírus permanece apenas no país.
- (B) “De acordo com o levantamento feito pelo Conass (Conselho Nacional de Secretários da Saúde), o país contabiliza até o momento 8,5 milhões de casos e 210 mil mortes por covid-19” (2º parágrafo). Esses dados reforçam que há um equilíbrio no número de novos casos da doença.
- (C) “A despeito das orientações das autoridades em saúde pública, muitos familiares e amigos resolveram se reunir para celebrar o Natal e a passagem para 2021” (4º parágrafo). A reunião entre familiares nas festas de fim de ano não foi uma situação questionada no contexto da pandemia.
- (D) “Essa bola de neve do final de ano pode ser emendada com outra, provocada pelas aglomerações relacionadas ao Enem” (parágrafo 11). Isso ratifica os inúmeros novos casos de infecção e que eventos realizados no país, contribuem para o aumento da doença.
- (E) “Já nos quadros mais graves da doença, que evoluem para falta de ar e acometimento dos pulmões, há uma janela de cerca de sete dias entre o contato com o vírus e a necessidade de internação” (9º parágrafo). Essa informação retifica que a doença apresenta situações muito graves que precisam de acompanhamento médico.

### QUESTÃO 02

Assinale a alternativa que analisa corretamente a concordância do verbo em destaque em: **“Há fatores que ajudam a explicar esse momento da pandemia no Brasil” (3º parágrafo).**

- (A) A correção do enunciado ainda permaneceria, caso fosse substituído o verbo “há” pelo verbo “existe”.
- (B) O verbo “há” é uma locução verbal que precisa permanecer no singular para manter a correção gramatical.
- (C) A palavra “há” na frase é uma conjugação do verbo haver, sendo impessoal.
- (D) Caso o verbo conjugado “há” permaneça com essa escrita, é preciso mudar a palavra “fatores”, já que o verbo está no singular, sendo obrigatório utilizar o termo no singular “fator”.
- (E) “Há” é um verbo pessoal e está conjugado na 3ª pessoa do singular.

### QUESTÃO 03

Marque a alternativa em que o acento indicativo de crase ocorre em um caso facultativo.

- (A) Hoje pela manhã, irei a São Francisco do Pará e à noite volto para a minha cidade.
- (B) Vamos à praça tomar um sorvete e voltaremos às 20h.
- (C) Às vezes, no domingo, eu vou no Pau Amarelo.
- (D) Nós gostamos de pizza à moda italiana, é mais saborosa.
- (E) Vou até à prefeitura correndo, faço isso todos os dias.

### QUESTÃO 04

Analise o enunciado: “A respeito das orientações das autoridades em saúde pública, muitos familiares e amigos resolveram se reunir para celebrar o Natal e a passagem para 2021” (4ª parágrafo).

Sabendo que os sinônimos podem substituir termos que apresentam mesmo significado, marque a alternativa que em que a palavra destacada pode ser substituída por outra de mesmo valor.

- (A) Narrativas.
- (B) Obrigações.
- (C) Disposições.
- (D) Diretrizes.
- (E) Disponibilidades.

### QUESTÃO 05

Sabendo que a proposição é uma das Classes de Palavras e que há uma classificação dessa classe, marque a alternativa em que há uma preposição essencial.

- (A) “que é contaminado pelo coronavírus pode demorar até 14 dias para ter algum sintoma...”
- (B) “a aprovação das primeiras vacinas deu o primeiro sinal...”
- (C) “É preciso considerar que, no último domingo (17)...”
- (D) “o efeito dessa movimentação nas cidades brasileiras...”
- (E) “E isso pode ser explicado pela própria dinâmica da covid-19...”

### MATEMÁTICA

### QUESTÃO 06

O índice de eficácia global de uma vacina é um dos critérios essenciais na avaliação para seu uso. A Organização Mundial da Saúde (OMS) e a Agência Nacional de Vigilância Sanitária (ANVISA) adotam como valor mínimo para aprovação, 50% de eficácia. A tabela a seguir mostra o número total de voluntários vacinados e de imunizados nos testes realizados com a vacina “Tupiniquim”.

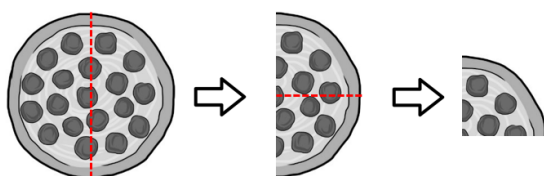
Vacina	Nº total de voluntários vacinados	Nº de imunizados
Tupiniquim	12.000	6024

De acordo com o valor de corte da OMS e da ANVISA, o que podemos afirmar?

- (A) Não foi aprovada, pois faltam 0,5%.
- (B) Não foi aprovada, pois faltam 0,2%.
- (C) Foi aprovada com o valor mínimo do corte.
- (D) Foi aprovada com o valor 0,5% a mais que o corte.
- (E) Foi aprovada com o valor 0,2% a mais que o corte.

### QUESTÃO 07

A imagem a seguir mostra uma sequência de cortes em uma pizza.



1) Corta-se ao meio uma pizza.

2) Corta-se ao meio uma das metades.

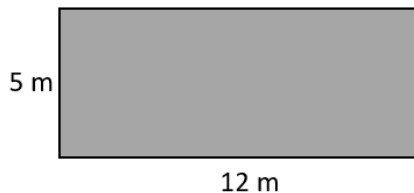
3) Pega-se uma das metades do corte anterior.

Utilizando a notação de potência, qual representa o último pedaço de pizza da imagem (pedaço 3)?

- (A)  $\left(\frac{1}{2}\right)^0$
- (B)  $\left(\frac{1}{2}\right)^1$
- (C)  $\left(\frac{1}{2}\right)^2$
- (D)  $\left(\frac{1}{4}\right)^0$
- (E)  $\left(\frac{1}{4}\right)^2$

### QUESTÃO 08

Um estado brasileiro lançou um decreto para estabelecer as normas sociais que garantam a segurança das pessoas em diversos ambientes durante a pandemia de Covid-19. Em academias, para atividades não aeróbicas em aulas coletivas, deve-se respeitar 1 (uma) pessoa para cada 8 m<sup>2</sup>. A imagem a seguir mostra as dimensões de uma sala retangular da academia “Corpo Fit”, onde ocorrerão atividades coletivas não aeróbicas.



De acordo com as normas do decreto, quantas pessoas, no máximo, podem estar em uma aula ao mesmo tempo nessa sala?

- (A) 6.
- (B) 7.
- (C) 8.
- (D) 9.
- (E) 10.

### QUESTÃO 09

Uma cidade do interior brasileiro tinha 50 enfermeiros, mas  $\frac{1}{10}$  saiu por aposentadoria. Do restante,  $\frac{2}{9}$  estão afastados por doenças. De acordo com as exigências da Organização Mundial da Saúde (OMS), essa cidade deve ter, no mínimo, 40 enfermeiros trabalhando. Então, quantos enfermeiros deverão ser contratados para atender o número mínimo exigido pela OMS?

- (A) 5.
- (B) 6.
- (C) 7.
- (D) 8.
- (E) 9.

### QUESTÃO 10

Segundo o relatório da Organização para Cooperação e Desenvolvimento Econômico (OCDE), apenas um em cada dez jovens do mundo consegue diferenciar fatos de opiniões. No Brasil, os números são mais preocupantes, um em cada cinquenta jovens consegue fazer a referida diferenciação. Levando em consideração um município brasileiro com 35.200 jovens, quantos conseguem fazer a diferenciação entre fato e opinião?

- (A) Menos que 400.
- (B) Entre 400 e 500.
- (C) Entre 500 e 600.
- (D) Entre 600 e 700.
- (E) Mais que 700.

## NOÇÕES DE INFORMÁTICA

### QUESTÃO 11

Um agente de saúde precisa enviar, através de seu e-mail, uma série de arquivos contendo relatórios de seu trabalho semanal, mas sua caixa postal oferece restrições ao tamanho total de arquivos a ser enviado. Uma solução fácil e eficiente para esse problema é utilizar um programa compactador de arquivos.

Aponte a única alternativa que apresenta CONTEÚDO FALSO sobre esses programas.

- (A) O 7-Zip é um programa de código aberto que possui uma grande base de usuários. Possui uma interface simples e intuitiva e se caracteriza por apresentar um formato próprio de arquivamento de dados com alto grau de compactação e criptografia.
- (B) PeaZip é um compactador que suporta uma grande diversidade de tipos de arquivos, oferecendo, inclusive, uma versão portátil que não requer instalação. Apresenta uma opção que permite comparar, dividir e combinar arquivos.
- (C) O ZipWare permite ao seu usuário, durante a sua instalação, que seja concedido o acesso ao menu de contexto do Windows Explorer. Isso significa que ao clicar com o botão direito do mouse no arquivo selecionado ocorrerá permissão imediata da extração ou compactação.
- (D) O ZipNet é uma excelente opção para compactação de arquivos que precisam ser protegidos por senhas no ato do envio. Trabalha com uma criptografia de ponta, criando arquivos de extração automática que podem ser abertos com um clique duplo.
- (E) O Universal Extractor é um programa pequeno e simples, no entanto, apresenta uma significativa desvantagem: só pode ser usado para abrir e descompactar arquivos.

### QUESTÃO 12

O significado correto da sigla URL é:

- (A) Unique Resource Location, uma localização de origem única.
- (B) Universal Resource Locator, um localizador de origem universal.
- (C) Unlocked Restore Localization, uma localização de origem desbloqueada.
- (D) Unique Restore Location, um local de endereçamento único.
- (E) Uniform Resource Locator, um localizador uniforme de recursos.

### QUESTÃO 13

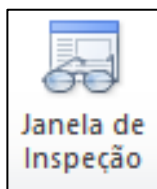
Utilizando o MS Word 10, um agente de saúde precisa elaborar um documento que apresente duas colunas na área de digitação da página. A alternativa que apresenta um direcionamento correto entre as opções do menu do referido programa para a aplicação e obtenção da formatação em questão é:

- (A) Inserir => Colunas => Duas.
- (B) Exibição => Página => Colunas => Duas.
- (C) Layout de página => Colunas => Duas.
- (D) Exibição => Colunas => Duas.
- (E) Layout de página => Formatação => Colunas => Duas.

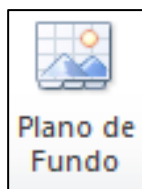
### QUESTÃO 14

Observe as duas imagens dispostas abaixo. Elas representam “botões” encontrados entre as diversas opções de menu no programa MS Excel 2010 da Microsoft.

Botão 1:



Botão 2:



Sobre esses botões é correto afirmar:

- (A) O botão 2 está localizado na opção “Inserir” do menu principal e serve para colocar um plano de fundo na planilha.
- (B) O botão 1 está localizado na opção “Exibição” do menu principal e serve para identificar células de mesmos valores.
- (C) O botão 2 está localizado na opção “Layout de página” do menu principal e serve para colocar uma imagem em certa célula.
- (D) O botão 1 está localizado na opção “Fórmulas” do menu principal e serve para monitorar valores de determinadas células.
- (E) O botão 2 está localizado na opção “Exibição” do menu principal e serve para colocar um plano de fundo na planilha.

### QUESTÃO 15

“É um recurso utilizado por um sistema operacional para o armazenamento de pequenas quantidades de dados. O uso mais comum é como parte de uma interface gráfica e geralmente é implementado como blocos temporários de memória que podem ser acessados pela maioria ou todos os programas do ambiente”.

O trecho textual acima está relacionado com:

- (A) A área de transferência.
- (B) A interação de pastas.
- (C) Aplicativo de armazenamento.
- (D) A área de trabalho.
- (E) Atalhos de diretório.

## CONHECIMENTOS ESPECÍFICOS

### QUESTÃO 16

Observe as assertivas abaixo.

- I - Trabalhar com adscrição de famílias em base geográfica definida, a microárea.
- II - Cadastrar todas as pessoas de sua microárea e manter os cadastros atualizados.
- III - Não é permitido ao ACS desenvolver outras atividades nas Unidades Básicas de Saúde, mesmo que vinculadas às atribuições acima.
- IV - Desenvolver atividades de promoção da saúde, de prevenção das doenças e agravos e de vigilância à saúde, por meio de visitas domiciliares e de ações educativas individuais e coletivas nos domicílios e na comunidade, como por exemplo, combate à dengue, malária, leishmaniose, entre outras, mantendo a equipe informada, principalmente a respeito dos diagnósticos das doenças.

Trata-se de atribuição específica do ACS (Agente Comunitário de Saúde) o constante em:

- (A) Apenas uma assertiva.
- (B) Duas assertivas.
- (C) Três assertivas.
- (D) Todas as assertivas.
- (E) Nenhuma assertiva.

### QUESTÃO 17

Reportagem do dia 26/04/2020 no WebSite da UOL sobre hipertensão:

*“A hipertensão é um dos principais fatores de risco para as doenças do coração”. Segundo a entidade (Sociedade de Cardiologia do Estado de São Paulo – SOCESP), 36 milhões de adultos brasileiros têm pressão alta. Entre os idosos, a hipertensão atinge 60%. A doença é responsável, direta ou indiretamente, por metade das mortes por doenças cardiovasculares, cerca de 200 mil todos os anos, informa a SOCESP. A hipertensão não tratada está associada a eventos como morte súbita, acidente vascular cerebral (derrame), infarto agudo do miocárdio, insuficiência cardíaca, doença arterial periférica e doença renal crônica. “Nos casos de COVID-19, o hipertenso não controlado tem mais complicações e maior mortalidade, conforme relatos e estudos internacionais”, explica o presidente da SOCESP, o cardiologista João Fernando Monteiro Ferreira.*

Fonte: [www.uol.com.br/vivabem/noticias](http://www.uol.com.br/vivabem/noticias)

Diante da magnitude dessa doença crônica, marque a alternativa que NÃO se enquadra na atuação de um ACS no contexto da hipertensão:

- (A) O ACS pode atuar junto às pessoas que não têm o diagnóstico de hipertensão, mas possuem os fatores de risco; e também pode atuar em relação às pessoas, com diagnóstico de hipertensão.
- (B) Verificar regularmente a pressão arterial de pessoas não hipertensas, porém que tenham fatores de risco para a hipertensão e orientar para o agendamento de consulta na UBS.
- (C) Perguntar sempre à pessoa com hipertensão e que tenha medicamentos prescritos se está os tomando com regularidade. Se houver dificuldades nesse processo, informar à equipe quais são e planejar ações de enfrentamento.
- (D) Identificar os hipertensos de sua área de atuação e solicitar ao enfermeiro que preencha a ficha B-HA do SIAB (Sistema de Informação de Atenção Básica).
- (E) Estimular a realização de atividades físicas regulares a serem iniciadas de forma gradativa.

#### QUESTÃO 18

**Sobre o papel do ACS em relação as orientações gerais vinculadas ao controle da hanseníase podemos dizer que NÃO está correto o conteúdo da alternativa:**

- (A) Detectar em sua área de atuação pessoas com sinais e sintomas compatíveis com hanseníase e orientá-las a procurar a UBS.
- (B) Orientar a buscar atendimento na UBS quando alguma pessoa se queixar de manchas sem sensibilidade local ou locais sem manchas, mas sem sensibilidade local.
- (C) Encaminhar toda e qualquer pessoa que resida ou tenha residido com o doente de hanseníase nos últimos cinco anos (contatos intradomiciliares) para avaliação na UBS e estimulá-la a realizar o autoexame, mesmo depois da avaliação, de acordo com a orientação da equipe.
- (D) Verificar a presença de cicatriz da BCG no braço direito do contato intradomiciliar.
- (E) Caso exista uma ou nenhuma cicatriz vacinal e não haja comprovação na caderneta de vacina, orientar a procurar a Unidade Básica de Saúde para orientação, para ser revacinado.

#### QUESTÃO 19

**O estatuto da criança e do adolescente (ECA) traz em seu art. 54 que é dever do Estado assegurar à criança e ao adolescente:**

- I - ensino fundamental, obrigatório e gratuito, inclusive para os que a ele não tiveram acesso na idade própria.*
- II - progressiva extensão da obrigatoriedade e gratuidade ao ensino médio.*
- III - atendimento educacional especializado aos portadores de deficiência, preferencialmente na rede regular de ensino.*
- IV - atendimento em creche e pré-escola às crianças de zero a seis anos de idade.*
- V - acesso aos níveis mais elevados do ensino, da pesquisa e da criação artística, segundo a capacidade de cada um.*
- VI - oferta de ensino noturno regular, adequado às condições do adolescente trabalhador.*
- VII - atendimento no ensino fundamental, através de programas suplementares de material didático-escolar, transporte, alimentação e assistência à saúde.*

**Dentre as assertivas acima:**

- (A) Somente a I está correta.
- (B) Somente I, II e V estão corretas.
- (C) Somente IV e V estão corretas.
- (D) Somente II, V e VII estão corretas.
- (E) Todas as afirmativas estão corretas.

#### QUESTÃO 20

**Observa-se no estatuto do idoso, no Art. 17: Ao idoso que esteja no domínio de suas faculdades mentais é assegurado o direito de optar pelo tratamento de saúde que lhe for reputado mais favorável.**

**No parágrafo único do mesmo artigo temos: Não estando o idoso em condições de proceder à opção, esta será feita:**

- I - pelo curador, quando o idoso for interditado.*
- II - pelos familiares, mesmo que o idoso tenha curador que não seja familiar.*
- III - pelo médico, quando ocorrer iminente risco de vida e não houver tempo hábil para consulta a curador ou familiar.*
- IV - pelo próprio médico, quando não houver curador ou familiar conhecido, caso em que deverá comunicar o fato ao Ministério Público.*



**Assinale a alternativa correta:**

- (A) Somente a assertiva I está correta.
- (B) Somente as assertivas I, III e IV estão corretas.
- (C) Somente as assertivas II, e IV estão corretas.
- (D) Somente as assertivas I, II, e III estão corretas.
- (E) Todas as assertivas estão corretas.

**QUESTÃO 21**

**Muitas são as ações preventivas contra a obesidade. Indique a alternativa que NÃO pode ser considerada como uma dessas ações:**

- (A) Os profissionais inseridos nas comunidades identificam as necessidades, considerando os determinantes e condicionantes sociais da saúde, o que permite desenvolver ações que promovam o empoderamento de indivíduos, famílias e comunidades, permitindo que a população faça escolhas saudáveis que reflitam sobre sua própria saúde e, dessa forma, estimulem a autonomia, a corresponsabilização, a participação popular e o controle social na gestão das políticas públicas.
- (B) As ações de Promoção da Alimentação Adequada e Saudável (PAAS) devem levar em consideração as diferenças por fase do curso da vida, respeitando a diversidade cultural, étnica e racial. A formação de hábitos saudáveis inicia-se na infância, com o estímulo ao aleitamento materno e a introdução da alimentação complementar, em tempo oportuno e de qualidade, e devem perdurar por toda a vida.
- (C) O nível federal instrumentaliza os estados e municípios, mas são os profissionais de saúde da Atenção Básica que atuam no território e possuem papel primordial na promoção da saúde (alimentação saudável e atividade física), uma vez que os territórios apresentam necessidades específicas.
- (D) Para a formação de hábitos alimentares saudáveis é importante que as ações sejam desenvolvidas desde a primeira infância. Segundo a Pesquisa Nacional de Demografia e Saúde da Criança e da Mulher (PNDS-2006) apenas 14% das crianças brasileiras são amamentadas exclusivamente até o 6º mês de idade. Além da baixa adesão ao aleitamento materno exclusivo até os seis meses, como preconizado pela Organização Mundial da Saúde (OMS), a introdução de alimentos também é realizada de forma precoce.
- (E) Guias Alimentares representam as diretrizes oficiais para a promoção da alimentação saudável, sendo considerados guias de saúde pública e instrumentos para a Educação Alimentar e Nutricional, todavia podem deixar de ser utilizados pois cada região possui sua peculiaridade alimentar.

**QUESTÃO 22**

**Observe atentamente o texto e marque a alternativa correta.**

*A região onde você atua tem água em abundância ou não? tem mar? tem lagoa? tem rio? Tem mangue? tem riacho? tem charco? tão tem nada disso?*

*A terra é seca? úmida? fértil? arenosa? boa para plantar? tem períodos longos de seca, provocando dificuldades de sobrevivência e até migração das famílias?*

*A vegetação, como é? mata atlântica? floresta amazônica? pampas? tabuleiros? caatinga? Você pode descrever a vegetação da sua área.*

*O relevo é montanhoso? plano? tem muito barranco?*

*O clima é quente? frio? temperado? seco? chuvoso? em que época do ano chove mais? Tem problema de inundação, gerando perdas para as famílias, inclusive desabrigo? tem problemas de clima que afetam a lavoura?*

- (A) O texto faz parte do raciocínio técnico que o ACS tem que ter para fazer o diagnóstico comunitário.
- (B) O texto faz parte das etapas de investigação de verminoses.
- (C) O texto faz parte das etapas de investigação de controle da hanseníase.
- (D) O texto faz parte das etapas de investigação de controle da tuberculose.
- (E) O texto faz parte das etapas de investigação de controle da obesidade.

### QUESTÃO 23

O papel do ACS diante da identificação \_\_\_\_\_ se insere nas ações de prevenção e controle de diversas doenças. Como exemplos destes \_\_\_\_\_ temos: Bebês que nascem com menos de dois quilos e meio; Crianças que estão desnutridas; Filhos de mães que fumam, bebem bebidas alcoólicas e usam drogas na gravidez; Gestantes que não fazem o pré-natal; Gestantes que fumam; Gestantes com diabetes e/ou pressão alta; Acamados; Pessoas que precisam de cuidadores, mas não possuem alguém que exerça essa função; Pessoas com deficiência que não têm acesso às ações e serviços de saúde, sejam estes de promoção, proteção, diagnóstico, tratamento ou reabilitação.

A única alternativa que apresenta conteúdo correto para preencher as lacunas do texto acima é:

- (A) da situação vacinal / fatores de riscos.
- (B) de diagnósticos / do diagnóstico comunitário.
- (C) das situações de riscos / fatores de riscos.
- (D) dos casos / diagnósticos comunitários.
- (E) da situação vacinal / diagnósticos comunitários.

### QUESTÃO 24

Indique a única alternativa que NÃO se trata de um indicador socioeconômico.

- (A) Taxa de analfabetismo.
- (B) Taxa de desemprego.
- (C) Níveis de escolaridade.
- (D) Taxa de crescimento da população.
- (E) Taxa de trabalho infantil.

### QUESTÃO 25

A vacinação durante a gestação não objetiva somente a proteção da gestante, mas também a proteção do feto. Dessa forma, recomenda-se que as mulheres gestantes estejam com seu calendário vacinal atualizado com as seguintes vacinas:

- (A) dTpa (Difteria, Tétano e Coqueluche [Pertussis acelular]); Influenza e Hepatite B.
- (B) dT (Dupla Adulto – Difteria e Tétano); dTpa (Difteria, Tétano e Coqueluche [Pertussis acelular]); Influenza e Hepatite B.
- (C) dT (Dupla Adulto – Difteria e Tétano); dTpa (Difteria, Tétano e Coqueluche [Pertussis acelular]); Influenza.
- (D) dT (Dupla Adulto – Difteria e Tétano); dTpa (Difteria, Tétano e Coqueluche [Pertussis acelular]); Hepatite B.
- (E) dT (Dupla Adulto – Difteria e Tétano); Influenza e Hepatite B.

### QUESTÃO 26

Chikungunya é uma doença transmitida por:

- (A) Helmintos.
- (B) Vírus.
- (C) Protozoários.
- (D) Bactérias.
- (E) Fungos.

### QUESTÃO 27

A transmissão da Doença de Chagas acontece:

- (A) Durante a picada de um inseto infectado com vírus.
- (B) Por meio da picada de fêmeas do inseto infectadas pelo protozoário *Plasmodium*.
- (C) As bactérias presentes na água penetram no corpo humano pela pele, principalmente se houver algum arranhão ou ferimento. O contato com água ou lama de esgoto, lagoas ou rios contaminados e terrenos baldios também podem facilitar a transmissão.
- (D) Pelas fezes do "inseto" depositadas sobre a pele da pessoa, enquanto o inseto suga o sangue. A picada provoca coceira, facilitando a entrada do tripanossomo no organismo.
- (E) Por insetos hematófagos (que se alimentam de sangue) conhecidos como flebotomos ou flebotomíneos.

### QUESTÃO 28

A Lei nº 13.595, de 5 de janeiro de 2018, traz algumas alterações de outra lei (Lei nº 11.350, de 5 de outubro de 2006). A partir desta informação cabe ressaltar que a Lei nº 13.595, de 5 de janeiro de 2018 em seu art. 8º altera o art. 7º da Lei nº 11.350, de 5 de outubro de 2006. Após estas alterações o art. 7º passa a vigorar da seguinte forma:

"Art. 7º .....

*II - ter concluído, com aproveitamento, curso de formação inicial, com carga horária mínima de quarenta horas.*

*III - ter concluído o ensino médio.*

*§ 1º Quando não houver candidato inscrito que preencha o requisito previsto no inciso III do caput deste artigo, poderá ser admitida a contratação de candidato com ensino fundamental, que deverá comprovar a conclusão do ensino médio no prazo máximo de "x" anos.*

**No texto, o tempo "x anos" para o qual o contratado deverá comprovar a conclusão do ensino médio é de quantos anos?**

- (A) 2 anos.
- (B) 3 anos.
- (C) 4 anos.
- (D) 5 anos.
- (E) 6 anos.

### QUESTÃO 29

**O vídeo "Agentes em ação: Quem é o Agente?" traz no diálogo o conceito de saúde, como descrito a seguir.**

*[...] A saúde é uma situação física e mental que possibilita a pessoa uma vida social adequada as suas necessidades.*

**Com base nesse trecho do diálogo, pode-se afirmar que:**

*I - Saúde é o contrário de doença.*

*II - Nós precisamos não estar correndo risco de pegar doença e acabar com a doença antes que ela pegue a gente, interrompendo a transmissão.*

*III - Para viver com saúde é preciso morar em casa saudável, longe do lixo, com comida e água boa para beber.*

*IV - Para ter saúde além de não estar doente precisamos ter qualidade de vida, gerada com viagens, recurso financeiro para comer o que desejar, na hora em que desejar, por exemplo.*

- (A) Somente a afirmativa I está correta.
- (B) Somente as afirmativas I e II estão corretas.
- (C) Somente as afirmativas I, II e IV, estão corretas.
- (D) Somente as afirmativas II e III estão corretas.
- (E) Todas as afirmativas estão corretas.

### QUESTÃO 30

**Leia o texto abaixo que trata sobre o vídeo "Agentes em ação: Microáreas de risco, identificando o perigo".**

*A microárea consiste em um espaço geográfico pequeno e delimitado de uma área. É composta por domicílios que comportam de 100 até 250 famílias.*

*As famílias existentes em uma microárea (cerca de 2.400 a 4.000 pessoas) são de responsabilidade do agente comunitário de saúde (ACS) que integra a equipe de atenção básica.*

*Ao realizar as visitas domiciliares e cadastrar as famílias, o ACS obtém todas as informações referentes aos principais problemas de saúde que acometem a população de sua comunidade, determinando as microáreas de risco. Para que as pessoas e famílias dessas regiões possam receber a atenção adequada, é extremamente importante que os ACSs identifiquem as microáreas de risco e colete todas as informações necessárias para que a equipe de atenção básica possa planejar e realizar atividades e ações específicas, voltadas ao acompanhamento permanente dessa população.*

**NÃO se trata de microárea de risco:**

- (A) Um esgoto a céu aberto, cheio de lixo a céu aberto.
- (B) Lugar sem água encanada, com lençol aquático contaminado.
- (C) Longa distância da área para o local de atendimento médico.
- (D) Lugares com atendimento regulares em saúde.
- (E) Área em que resida pessoa com doença infectocontagiosa.

**QUESTÃO 31**

**A Política Nacional de Atenção Básica foi aprovada pela:**

- (A) Lei nº 8.142, de 28 de dezembro de 1990.
- (B) Lei nº 12.871, de 22 de outubro de 2013.
- (C) Portaria nº 2.436, de 21 de setembro de 2017.
- (D) Portaria nº 2.715/GM/MS, de 17 de novembro de 2011.
- (E) Portaria nº 971/GM/MS, de 3 de maio de 2006.

**QUESTÃO 32**

**Em uma comunidade em que existam muitas crianças com menos de 5 anos, o ACS deve estar atento às vacinas e pronto para o seu trabalho de orientação às mães para a prevenção das doenças, principalmente diarreia e infecções respiratórias agudas. Deve também estar estimulando as mães para amamentarem os seus filhos, exclusivamente, até os seis meses de idade. Analise as alternativas abaixo e marque aquela que NÃO apresenta conteúdo correto.**

- (A) Os sinais de perigo da diarreia: a criança fica fraca; sem apetite; vomitando muito e perdendo sangue nas fezes.
- (B) Quando a criança fica desidratada a moleira afunda.
- (C) A desidratação grave é acompanhada de urina escura; sensação de boca seca; “olhos fundos” e sem lágrima; pele flácida.
- (D) O soro caseiro pode ser feito com 1(uma) medida rasa de sal e 1(uma) medida rasa de açúcar.
- (E) O soro caseiro deve ser descartado ao final do dia, no dia seguinte deve ser feito outro soro caseiro.

**QUESTÃO 33**

**O enfoque epidemiológico possui a tríade “tempo, lugar e pessoa”, assim todo profissional que trabalha no âmbito da epidemiologia visando a prevenção e promoção da saúde deve se questionar quando o caso ocorreu... se foi há 10 anos atrás... se foi no ano em curso... sempre avaliando a sua evolução. Nesse contexto temos como exemplo a Febre Amarela. Assim, marque a alternativa que traz como opção, o mesmo princípio utilizado na avaliação dessa Febre Amarela.**

- (A) Depressão.
- (B) Poliomielite.
- (C) Esquistossomose.
- (D) Infarto.
- (E) Desnutrição.

**QUESTÃO 34**

**Nas Américas existem quatorze espécies de Leishmania que podem causar doença humana. Dessas espécies, apenas \_\_\_\_\_ ocorrem no Brasil. A que causa doença mais grave é da espécie \_\_\_\_\_.**

**A alternativa que preenche corretamente as lacunas no trecho acima é:**

- (A) Sete / Leishmania braziliensis.
- (B) Seis / Leishmania amazonensis.
- (C) Sete / Leishmania amazonensis.
- (D) Seis / Leishmania braziliensis.
- (E) Dez / Leishmania amazonensis.

### QUESTÃO 35

“Regula em todo o território nacional, as ações e serviços de saúde, executados isolada ou conjuntamente, em caráter permanente ou eventual, por pessoas naturais ou jurídicas, de direito público ou privado”.

A indicação acima se refere a(ao):

- (A) Lei nº 8.142, de 28 de dezembro de 1990.
- (B) Lei nº 10.216, de 6 de abril de 2001.
- (C) Lei nº 12.466, de 24 de agosto de 2011.
- (D) Decreto nº 1.651, de 28 de setembro de 1995.
- (E) Lei nº 8.080, de 19 de setembro de 1990.